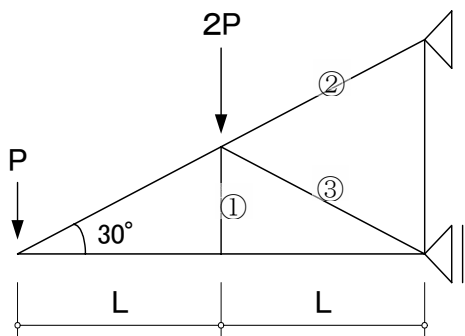


建築構造力学概論 第3回レポート

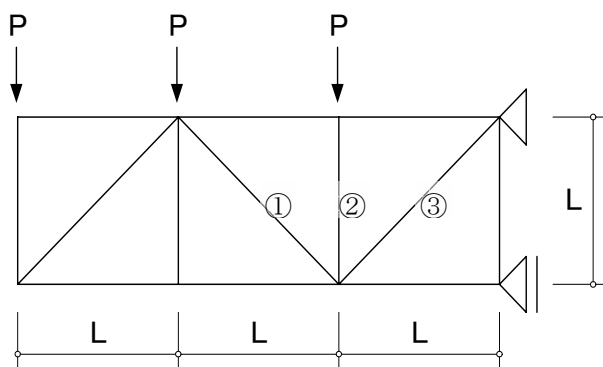
学科	学年・組	学籍番号	氏名

【問題1】 図のトラスを解き、①材・②材・③材の応力を求めよ。



①材 :
②材 :
③材 :

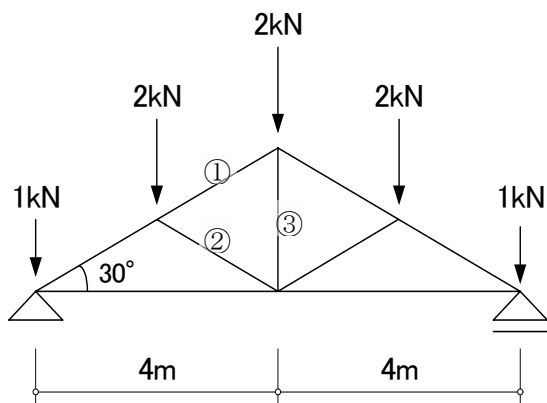
【問題2】 図のトラスを解き、①材・②材・③材の応力を求めよ。



①材 :
②材 :
③材 :

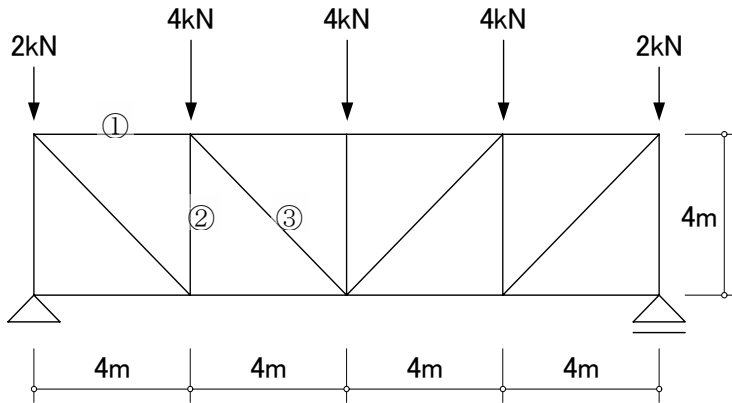
建築構造力学概論 第3回レポート

【問題3】 図のトラスを解き、①材・②材・③材の応力を求めよ。



①材 :
②材 :
③材 :

【問題4】 図のトラスを解き、①材・②材・③材の応力を求めよ。



①材 :
②材 :
③材 :